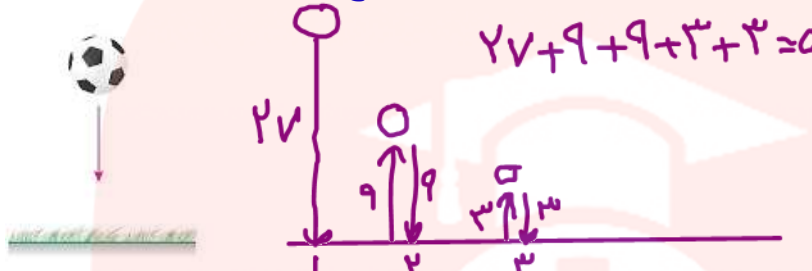



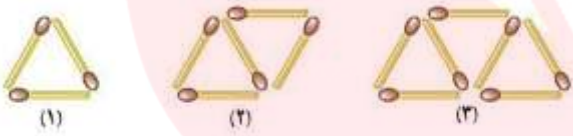


بارم	صفحه ۱	ردیف																		
۲	<p>تویی را از ارتفاع ۲۷ متری زمین رها می کنیم. این توپ در هر برخورد با زمین، $\frac{1}{3}$ ارتفاع قبلی اش بالا می رود. این توپ از لحظه ی رها شدن تا سومین برخوردش با زمین در مجموع چند متر حرکت کرده است؟</p>  <p style="text-align: center;">$27 + 9 + 9 + 3 + 3 = 51$</p>	۱																		
۲/۵	<p>با اسکناس های ۲۰۰۰ و ۵۰۰۰ تومانی به چند حالت می توان ۴۰۰۰۰ تومان درست کرد؟</p>  <table border="1" style="margin-left: auto; margin-right: auto;"> <thead> <tr> <th>۵۰۰۰</th> <th>۲۰۰۰</th> <th>جمع.</th> </tr> </thead> <tbody> <tr> <td>۸</td> <td>۰</td> <td>۴۰۰۰۰</td> </tr> <tr> <td>۴</td> <td>۵</td> <td>$30000 + 10000 = 40000$</td> </tr> <tr> <td>۳</td> <td>۱۰</td> <td>$20000 + 20000 = 40000$</td> </tr> <tr> <td>۲</td> <td>۱۵</td> <td>$10000 + 30000 = 40000$</td> </tr> <tr> <td>۰</td> <td>۲۰</td> <td>۴۰۰۰۰</td> </tr> </tbody> </table>	۵۰۰۰	۲۰۰۰	جمع.	۸	۰	۴۰۰۰۰	۴	۵	$30000 + 10000 = 40000$	۳	۱۰	$20000 + 20000 = 40000$	۲	۱۵	$10000 + 30000 = 40000$	۰	۲۰	۴۰۰۰۰	۲
۵۰۰۰	۲۰۰۰	جمع.																		
۸	۰	۴۰۰۰۰																		
۴	۵	$30000 + 10000 = 40000$																		
۳	۱۰	$20000 + 20000 = 40000$																		
۲	۱۵	$10000 + 30000 = 40000$																		
۰	۲۰	۴۰۰۰۰																		
۲/۵	<p>پس انداز هفتگی محمد ۸۰۰۰ تومان است. او حساب کرد که اگر ۵ هفته پولش را جمع کند، $\frac{1}{5}$ مبلغ کفشی که به آن علاقه دارد، تهیه می شود. قیمت کفش چند است؟</p>  <p style="text-align: center;">$5 \times 8000 = 40000$</p> <p style="text-align: center;">$\frac{1}{5} = \frac{40000}{\square} \quad 5 \times 40000 = 200000$</p>	۳																		
۲/۵	<p>سه عدد بعدی الگوهای زیر را بنویسید. رابطه ی بین عددها را به زبان فارسی توضیح دهید.</p> <p style="text-align: center;">۱, ۴, ۹, ۱۶, ۲۵, ۳۶, ۴۹</p> <p style="text-align: center;">$\frac{1}{4}, \frac{2}{7}, \frac{3}{10}, \frac{4}{13}, \frac{5}{16}, \frac{6}{19}, \frac{7}{22}$</p> <p style="text-align: center;">www.my-dars.ir</p>	۴																		
۲	<p>حاصل عبارت زیر را به دست آورید.</p> <p style="text-align: center;">$(\frac{1}{3}) \times (\frac{1}{4}) \times (\frac{1}{5}) \times \dots \times (\frac{1}{599}) = \frac{1}{3} \times \frac{1}{4} \times \frac{1}{5} \times \dots \times \frac{1}{599} = \frac{1}{3} = 0.33$</p>	۵																		

۶	<p>دو زاویه مکمل اند. یکی از آن ها ۵ برابر دیگری است. اندازه ی هر زاویه چند درجه است؟</p> <table border="1" style="margin-left: auto; margin-right: auto;"> <thead> <tr> <th>زاویه ۱</th> <th>زاویه ۲</th> <th>جمع</th> </tr> </thead> <tbody> <tr> <td>۶</td> <td>۵۰</td> <td>۴۰ X</td> </tr> <tr> <td>۴</td> <td>۱۰۰</td> <td>۱۲۰ X</td> </tr> <tr> <td>۳۰</td> <td>۱۵۰</td> <td>۱۸۰ ✓</td> </tr> </tbody> </table> <p style="text-align: right; margin-right: 20px;"><u>۱۸۰</u></p>	زاویه ۱	زاویه ۲	جمع	۶	۵۰	۴۰ X	۴	۱۰۰	۱۲۰ X	۳۰	۱۵۰	۱۸۰ ✓	۶
زاویه ۱	زاویه ۲	جمع												
۶	۵۰	۴۰ X												
۴	۱۰۰	۱۲۰ X												
۳۰	۱۵۰	۱۸۰ ✓												
۷	<p>هفت برابر عددی را منهای ۳ می کنیم عدد ۳۲ به دست می آید. آن عدد چند است؟</p> <div style="display: flex; justify-content: space-around;"> <div style="text-align: left;"> $7 \times \square - 3 = 32$ $7 \times 10 - 3 = 47$ $7 \times \boxed{5} - 3 = 32$ </div> <div style="text-align: left;"> $32 + 3 = 35$ $35 \div 7 = 5$ </div> </div>	۷												
۸	<p>$\frac{1}{3}$ دانش آموزان مدرسه ای به اردو رفته اند. $\frac{5}{6}$ دانش آموزانی که در مدرسه مانده اند، در حیاط مشغول بازی هستند و فقط ۷ نفر در کلاس مانده اند. این مدرسه چند دانش آموز دارد؟</p> <div style="display: flex; align-items: center; justify-content: center;">  <div style="margin-left: 20px;"> $9 \times 7 = 43$ </div> </div>	۸												
۹	<p>شکل دهم از چند چوب کبریت ساخته می شود؟</p> <div style="display: flex; align-items: center; justify-content: center;">  <div style="margin-left: 20px;"> $1 + 2 + 3 + \dots + n$ </div> </div> <p style="text-align: center; margin-top: 20px;"> $\boxed{11}$ و ۱۹، ۱۷، ۱۵، ۱۳، ۱۱، ۹، ۷، ۵، ۳ </p>	۹												
۲۰	<p>موفق باشید</p>	<p>@riazicafe</p>												

مای درس

گروه آموزشی عصر

www.my-dars.ir